

# 共通テスト対策 過去問プリント

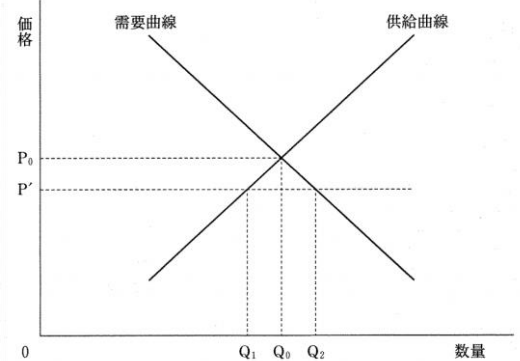
## vol.18 需要と供給



解説はこちら

問1 次の図は、ある財の市場における需要曲線と供給曲線を実線で示しており、また、価格 $P_0$ で需給が均衡することを示している。いま、政府によってこの財の価格の上限が $P'$ に規制されたとき、取引される財の数量の記述として適当なものを選び。

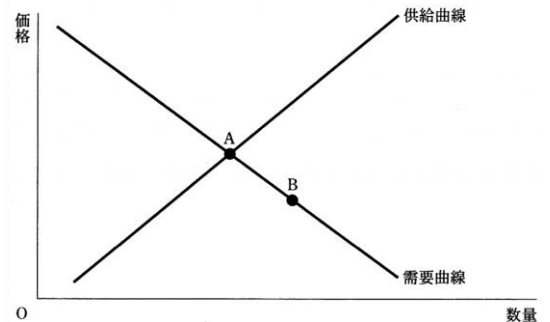
- ① 取引される財の数量は $Q_0$ になる。
- ② 取引される財の数量は $Q_1$ になる。
- ③ 取引される財の数量は $Q_2$ になる。
- ④ 取引される財の数量は0になる。



問2 次の図には、ある財の完全競争市場における当初の需要曲線と供給曲線とが表されている。

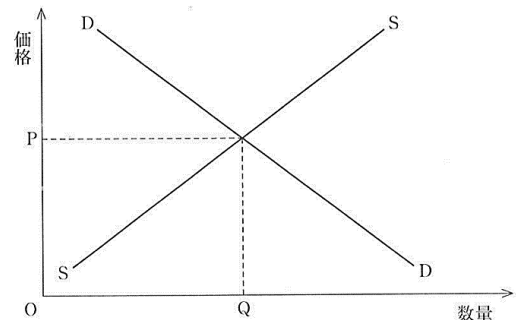
いま、この市場において、均衡点がAからBに移動したとしよう。このような均衡点の変化を生じさせた要因として最も適当なものを、下の①～④のうちから一つ選び。

- ① この財を消費する消費者の所得が増加した。
- ② この財に対する消費者の人気が高まった。
- ③ この財にかけられる税が引き上げられた。
- ④ この財を生産する技術が向上した。



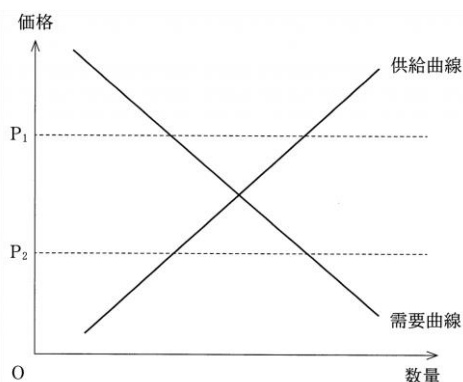
問3 次の図は、ある財の完全競争市場における需要曲線DDと供給曲線SSとを示したものである。この財を生産するために使用する原材料の価格が低下した場合、そのことによって生じる変化についての記述として正しいものを、下の①～④のうちから一つ選び。

- ① 需要曲線が右上にシフトし、財の価格が上がる
- ② 需要曲線が左下にシフトし、財の価格が下がる。
- ③ 供給曲線が左上にシフトし、財の価格が上がる。
- ④ 供給曲線が右下にシフトし、財の価格が下がる。



問4 次の図にはある財の完全競争市場における需要曲線と供給曲線とが描かれている。このとき、市場がもつ価格の自動調節機能についての記述として正しいものを、下の①～④のうちから一つ選び。

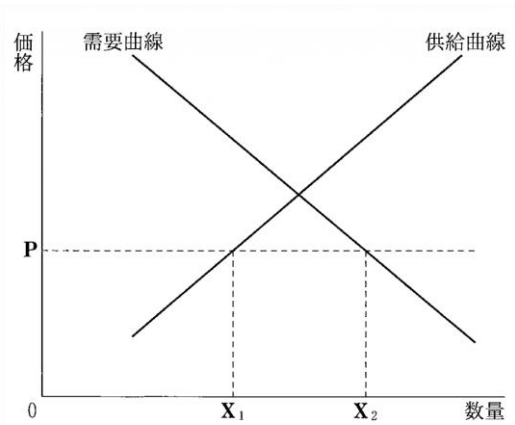
- ① 価格が $P_1$ であれば、需要が供給を上回るため、超過需要を減少させるように価格が下落する。
- ② 価格が $P_1$ であれば、需要が供給を下回るため、超過供給を減少させるように価格が上昇する。
- ③ 価格が $P_2$ であれば、需要が供給を上回るため、超過需要を減少させるように価格が上昇する。
- ④ 価格が $P_2$ であれば、需要が供給を下回るため、超過供給を減少させるように価格が下落する。



右解答 問5 ② 問6 ② 問7 ③

問5 次の図は、自由貿易の下で、ある財が国際価格Pのときに、国内供給 $X_1$ と国内需要 $X_2$ との差だけ輸入されることを示している。ここで、他の事情を一定とした場合、この財の輸入量を増加させうる要因として正しいものを、下のうちから一つ選べ。

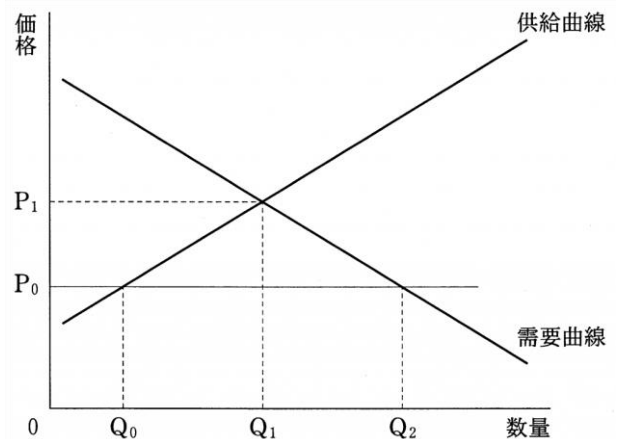
- ① 国際価格の上昇
- ② 国民の所得の増大
- ③ 国内産業の技術の進歩
- ④ 関税の引上げ



問6 価格規制について、あるサービスが競争的に提供されている市場を考える。次の図は、このサービスの需要と供給が価格 $P_1$ 、数量 $Q_1$ で均衡していることを示している。

ここで、サービスの価格の上限が $P_0$  ( $P_0 < P_1$ )に規制されたときの、サービスの取引についての記述として正しいものを、下の①～④のうちから一つ選べ。

- ① 取引されるサービスの数量は0となる。
- ② 取引されるサービスの数量は $Q_0$ となる。
- ③ 取引されるサービスの数量は $Q_1$ となる。
- ④ 取引されるサービスの数量は $Q_2$ となる。



問7 財・サービスの配分について、次の図は、リンゴジュースの市場における需要曲線と供給曲線を表したものであり、当初、価格が $P_0$ 、取引量が $Q_0$ において需要と供給が均衡しているとする。いま、リンゴの不作により原材料費が上昇したため、供給曲線が移動(シフト)し、同時に、リンゴジュースの人気の低下したため、需要曲線も移動したとする。その結果、新たな均衡に達するとすれば、それは、図中に示されている領域ア～エのどこに位置するか。その領域として最も適当なものを、下の①～④のうちから一つ選べ。

- ① ア
- ② イ
- ③ ウ
- ④ エ

